



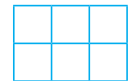




1. Jaka liczba trzycyfrowa została przedstawiona w każdej ramce? Zapisz te liczby.



• Zasyfruj podane liczby. Podkreśl liczbę, która ma najwięcej dziesiątek.

--	--	--	--

147

620

312

705

2. W każdej parze liczb podkreśl liczbę mniejszą.

526	726	841	241	378	328
612	632	426	428	990	994

• Wybierz 3 liczby z pierwszej części zadania i zapisz je słowami w zeszycie.

3. W lasach Podkarpacia policzono zwierzęta.

Było: 261 

150 

500 

Zapisz te liczby w okienkach, za każdym razem w innej kolejności i wpisz znaki $>$, $<$.

								
--	---	--	---	--	---	--	---	--